

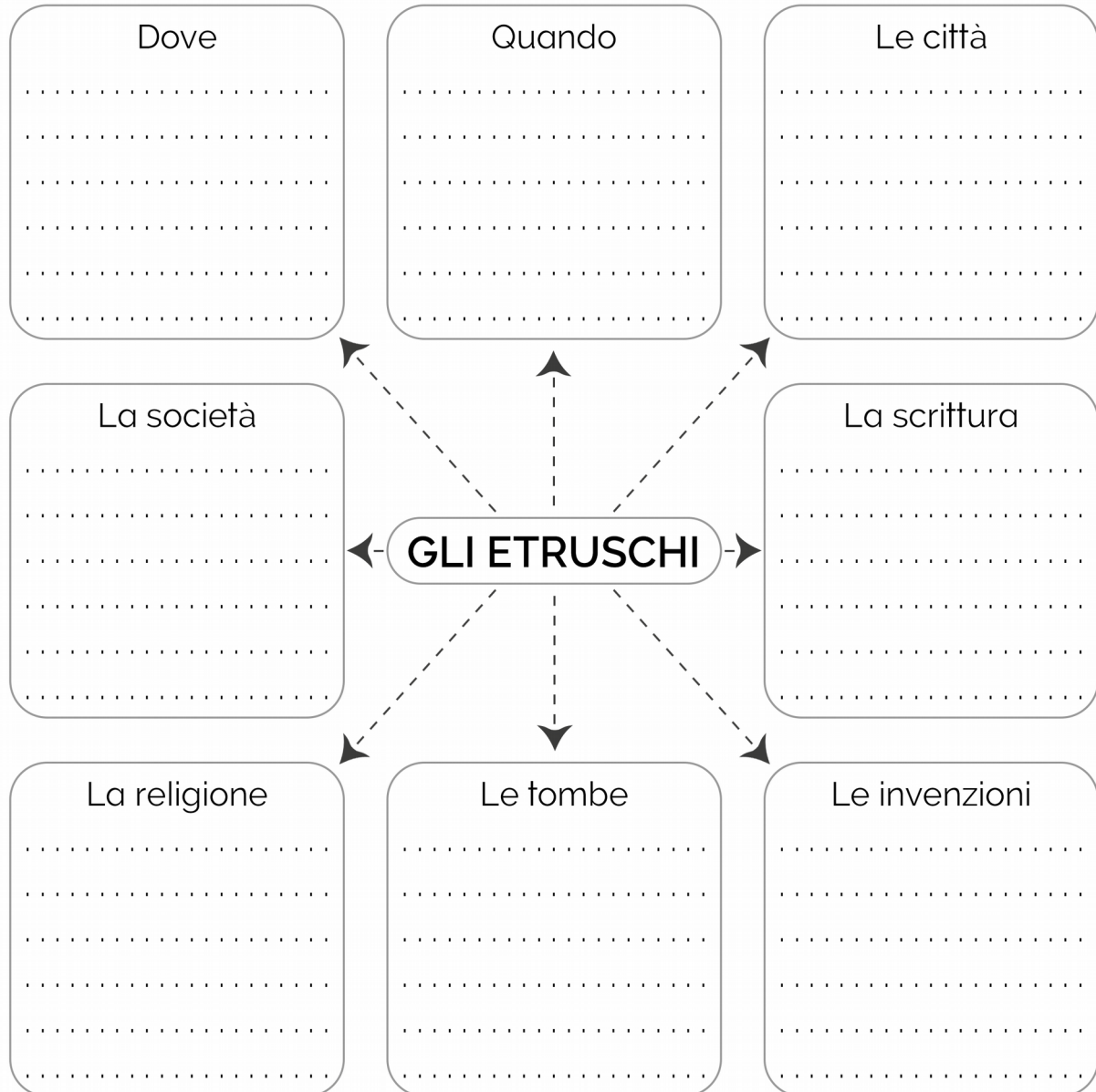


# Gli Etruschi




## Mappa concettuale

- Completa la mappa concettuale sugli Etruschi.



## IN UNA TOMBA ETRUSCA

Entrando in una tomba etrusca, ti potresti trovare davanti agli occhi una scena come quella riprodotta sotto.



 Osserva attentamente l'immagine, poi indica se le seguenti affermazioni sono vere o false.

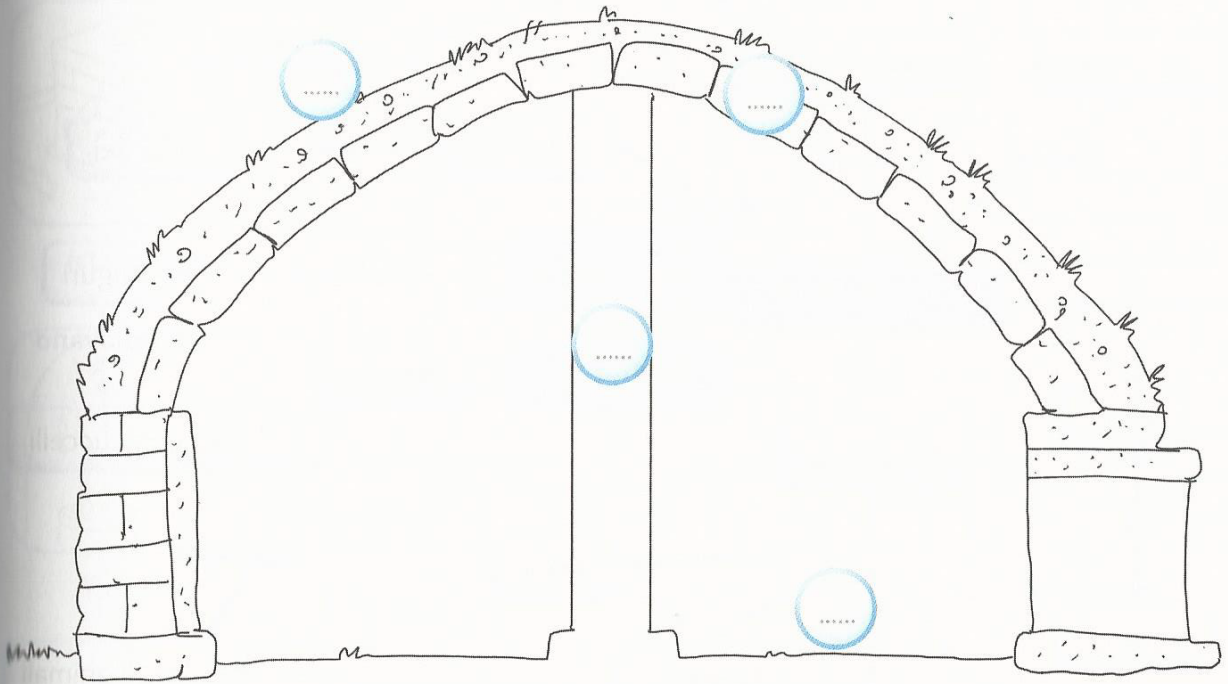
- Gli Etruschi mangiavano sdraiati su comodi lettini.
- Gli Etruschi erano un popolo pacifico che non conosceva la guerra.
- Gli Etruschi erano agricoltori e usavano i buoi per trainare l'aratro.
- Gli affreschi riproducevano scene di vita quotidiana e animali.
- Le donne non partecipavano ai banchetti, ma mangiavano a parte.
- Gli Etruschi non sapevano lavorare la ceramica.
- Gli Etruschi indossavano tuniche lunghe o corte, a seconda delle circostanze.
- Erano cacciatori, agricoltori e pescatori.

[illegible]

## LA SEPOLTURA “A TUMULO”



Gli Etruschi utilizzavano un particolare tipo di sepoltura chiamato “a tumulo” simile a quella riprodotta dal disegno sottostante. Leggi le didascalie e collegale al disegno inserendo i numeri nei quadretti.



1. Un ambiente circolare ospitava i resti del defunto. Era la camera funeraria ed era delimitata da una serie di lastre di roccia.
2. La copertura della camera funeraria era a forma di cupola. Questo effetto era ottenuto con anelli concentrici di blocchi di pietra.
3. Al centro della camera funeraria sorgeva un pilastro di pietra che aveva la funzione di sorreggere la lastra di chiusura della cupola.
4. La tomba era ricoperta da una collina artificiale chiamata “tumulo”. Poteva raggiungere un diametro di 30 metri.



Ora descrivi brevemente una tomba a tumulo degli antichi Etruschi.

.....

.....

.....

.....



## Toscana

- Completa il testo con le parole che trovi nel seguente riquadro.

Arcipelago Toscano - Chianti - Mar Tirreno - Arno  
Montecatini - colline - Appennino Tosco-Emiliano - Versilia  
Livorno - Prato - Carrara - Alpi Apuane - Isola d'Elba

Il territorio della regione Toscana è occupato per la maggior parte da ....., soprattutto nella zona centrale, mentre a nord-est troviamo l'..... e a nord-ovest le ..... Le pianure si trovano lungo le coste che sono basse e sabbiose e totalmente bagnate dal ..... Di fronte alle coste troviamo l'..... composto da sette isole di cui la più grande è l'....., la terza isola italiana per estensione. Qualche piccola pianura la troviamo anche lungo il corso di alcuni fiumi, dei quali il principale è l'..... Il clima è mite lungo le coste e continentale nella zona interna. La popolazione della Toscana è concentrata soprattutto nelle città del nord della regione, dove l'economia è più sviluppata. Le vaste zone collinari della regione hanno permesso di coltivare piante di ulivo e vite dalle quali si ricava olio molto pregiato e vini, come il ....., famosi in tutto il mondo. Si allevano bovini e suini, dai quali si ottengono carni molto pregiate, ma anche ovini e cavalli. Tra le industrie sono da ricordare quelle meccaniche, petrolchimiche, tessili a ..... e i grandi cantieri navali come quelli di ..... È anche molto importante l'estrazione del marmo nella zona di ..... La Toscana è tra le mete turistiche più frequentate d'Italia: Firenze, Siena e Pisa attirano turisti da tutto il mondo, che possono ammirare monumenti, opere architettoniche e pittoriche dei più importanti artisti dell'umanità; sono molto importanti anche le località balneari come quella della ..... e le località termali come ..... e Chianciano.



## Umbria

- Completa il testo con le parole che trovi nel seguente riquadro.

tettonica - culturale - religioso - Cascata delle Marmore  
tabacco - "cuore verde" d'Italia - bagnata dal mare - Nera  
Terni - Trasimeno - Norcia - Assisi - Marche - Tevere

L'Umbria è l'unica regione dell'Italia peninsulare a non essere ..... Il suo territorio è interamente collinare e montuoso con tante zone ricche di boschi. Per questa caratteristica e per il fatto di trovarsi al centro della penisola, l'Umbria è definita il ..... La zona montuosa si trova tutta ad est dove l'intero confine con le ..... è delimitato dall'Appennino Umbro-Marchigiano e dai Monti Sibillini. Al confine con la Toscana, invece, si trova il lago ....., il quarto lago più grande d'Italia e l'unico lago italiano di origine ....., alimentato dalle piogge. L'Umbria è anche una regione solcata da molti fiumi: tra questi il ....., che l'attraversa da nord a sud; il fiume Velino, gettandosi nelle acque del fiume ....., forma la spettacolare ..... che con i suoi 165 metri è la più alta del nostro Paese. Il clima è continentale con inverni freddi ed estati calde. L'Umbria è una delle regioni meno popolate d'Italia; i suoi abitanti risiedono soprattutto nelle città di Perugia e ..... e nelle cittadine di Foligno, ..... e Spoleto. A causa della natura del territorio l'agricoltura non è molto sviluppata: si coltivano ulivi, viti, frumento, girasoli e ..... L'allevamento più diffuso è quello dei suini, soprattutto nella zona di ....., dove si producono salumi molto apprezzati. Il settore industriale comprende piccole e medie aziende di vario tipo. È molto sviluppato il turismo ..... ad Assisi e Cascia e ..... grazie alle città d'arte e ai numerosi festival di musica e d'arte presenti tutto l'anno.