


# Divisioni esatte e con il resto

- Raggruppa e completa le seguenti divisioni con il resto.


- Raggruppa per 2.



Il 2 nell'11 è contenuto ..... volte con resto di .....

$11 : 2 = \dots\dots$


- Raggruppa per 3.



Il 3 nel 17 è contenuto ..... volte con resto di .....

$17 : 3 = \dots\dots$

- Raggruppa per 4.



Il 4 nel 14 è contenuto ..... volte con resto di .....

$14 : 4 = \dots\dots$